

補間法 (ラグランジュ補間とスプライン補間)

山本昌志*

2006年11月27日

概要

全てのデータ点を通るラグランジュ補間とスプライン補間について説明する。

1 はじめに

実験やシミュレーションを行っているとき $(x_0, y_0), (x_1, y_1), (x_2, y_2), (x_3, y_3)$ のように、離散的にデータが得られるのは普通のことである。この得られた値から、任意の x に対して y の値を推測しなくてはならないことがしばしば生じる。工学実験では曲線定規を使って値を推測したが、ここでは計算機を用いて値を推測することを学習する。

値を計算するためには、 $y = f(x)$ を示す関数 f を決めればよい。この関数は、次のようにして決める。

補間法 これは、離散的な点、全てを通過する関数を求め、値を推測する方法である (図 1)。データ数が多くなると、問題が生じることがある。

最小二乗法 データをある特定の関数に近似して、値を推測する方法である (図 2)。通常、関数形を決めるパラメータよりもデータの数が多く、全てのデータを通る曲線が得られるわけではない。最も誤差が少なくなるように、関数のパラメータを決める。

今回の講義では、前者の補間法の学習する。補間法にもいろいろ有るが、ここでは最も基本的なラグランジュ補間とスプライン補間について説明する。最小二乗法は各自勉強せよ。勉強しなくても、大抵のデータプロットアプリケーションではその機能があるので使うことができる。

一般的には、補間とは得られたデータの範囲内での値の推定のことを言う。それに対して、範囲外の推定は補外と言う。¹。例えば、図 3 のように $(x_0, y_0) \sim (x_3, y_3)$ のデータがあり、それらを通る曲線が得られたとする。データの範囲 $[x_1, x_3]$ の推定を補間、それ以外を補外と言う。ただし、どちらも同じ関数を用いる。

補間に比べて、補外の方が近似の精度が悪くなる場合が多い。このことは、証券価格のグラフを考えると良く分かる。本日までデータで補間することはそんなに難しくないが、明日以降の価格を推定することは極めて難しくなる。もし、良い精度で明日以降の価格がわかれば、大金持ちになれるであろう。

*国立秋田工業高等専門学校 電気情報工学科

¹補間のことを内挿、補外のことを外挿ということもある。

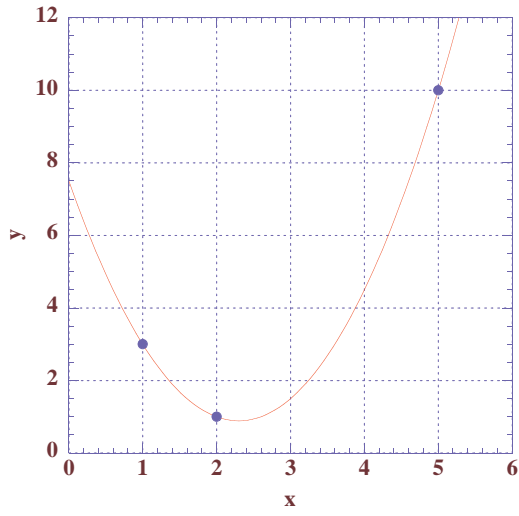


図 1: 補間 (ラグランジュ補間)

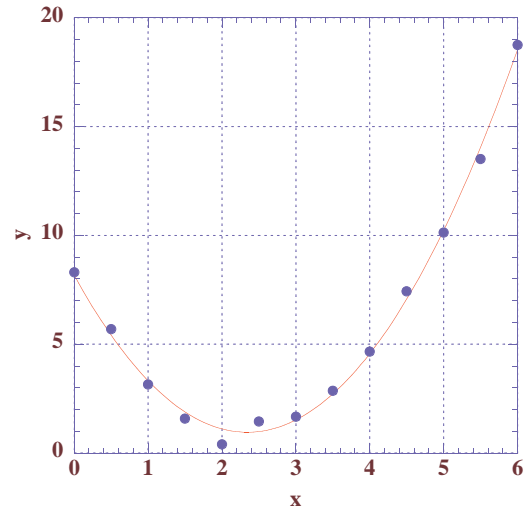


図 2: 最小二乗近似 (2 次関数)

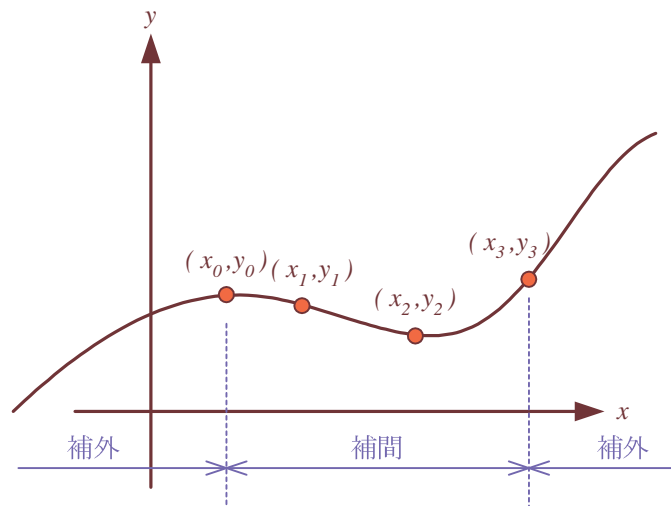


図 3: 補間と補外

2 ラグランジュ補間

2.1 基本的な考え方

ある物理量を測定して $N+1$ 個の値が得られたとする。それらは $(x_0, y_0), (x_1, y_1), (x_2, y_2), \dots, (x_N, y_N)$ の 2次元座標で表すことができる。この全ての点を通る関数を求めることが補間法の課題である。N 次関数を使えばその目的が達成できると容易に分かる。データが 2 個であれば 1 次関数、3 個であれば 2 次関数というようにである。一般的に $N+1$ 個のデータの場合、

$$y = a_0 + a_1x + a_2x^2 + \dots + a_i x^i + \dots + a_N x^N \quad (1)$$

と N 次関数を用いて補間するわけである。この係数 a_i を求めれば、補間の関数が求められたことになる。この係数は、 $N+1$ 元の連立 1 次方程式を解くことにより求めることができる。

この連立方程式の計算にはかなりの時間が必要であるが、それに代わるもっと良い方法がある。ここでは、 N 次関数で表現できれば良いわけで、次のようにする。

$$\begin{aligned} y = & \frac{(x-x_1)(x-x_2)(x-x_3)\cdots(x-x_N)}{(x_0-x_1)(x_0-x_2)(x_0-x_3)\cdots(x_0-x_N)}y_0 + \frac{(x-x_0)(x-x_2)(x-x_3)\cdots(x-x_N)}{(x_1-x_0)(x_1-x_2)(x_1-x_3)\cdots(x_1-x_N)}y_1 \\ & + \frac{(x-x_0)(x-x_1)(x-x_3)\cdots(x-x_N)}{(x_2-x_0)(x_2-x_1)(x_2-x_3)\cdots(x_2-x_N)}y_2 + \frac{(x-x_0)(x-x_1)(x-x_2)\cdots(x-x_N)}{(x_3-x_0)(x_3-x_1)(x_3-x_2)\cdots(x_3-x_N)}y_3 \\ & \cdots + \frac{(x-x_0)\cdots(x-x_{k-1})(x-x_{k+1})\cdots(x-x_N)}{(x_k-x_0)\cdots(x_k-x_{k-1})(x_k-x_{k+1})\cdots(x_k-x_N)}y_k + \cdots \\ & + \frac{(x-x_0)(x-x_1)(x-x_2)\cdots(x-x_{N-1})}{(x_N-x_0)(x_N-x_1)(x_N-x_2)\cdots(x_N-x_{N-1})}y_N \end{aligned} \quad (2)$$

この式 (2) を見ると、

- 各項の分母は定数で、分子は N 次関数となっている。このことから、全ての項は N 次関数になっているので、この式は N 次関数 (N 次多項式) である。
- x に $x_0, x_1, x_2, \dots, x_N$ を代入すると、 y の値は $y_0, y_1, y_2, \dots, y_N$ になる。したがって、この N 次関数は全てのデータ点 $(x_0, y_0), (x_1, y_1), (x_2, y_2), \dots, (x_N, y_N)$ を通過している。

となっている。これは、表現こそ違うものの式 (1) と同じである。式 (1) の a_i を連立方程式を解くことにより補間の関数を求める必要は無く、式 (2) を使えばよいということである。この補間をラグランジュの補間多項式 (Lagrange's interpolating polynomial) という。式 (2) をもうちょっと格好良く書けば、

$$L(x) = \sum_{k=0}^N L_k(x)y_k \quad (3)$$

ただし,

$$\begin{aligned}
 L_k(x) &= \frac{(x-x_0)(x-x_1)(x-x_2)\cdots(x-x_{k-1})(x-x_{k+1})\cdots(x-x_N)}{(x_k-x_0)(x_k-x_1)(x_k-x_2)\cdots(x_k-x_{k-1})(x_k-x_{k+1})\cdots(x_k-x_N)} \\
 &= \frac{x-x_0}{x_k-x_0} \times \frac{x-x_1}{x_k-x_1} \times \frac{x-x_2}{x_k-x_2} \times \cdots \times \frac{x-x_{k-1}}{x_k-x_{k-1}} \times \frac{x-x_{k+1}}{x_k-x_{k+1}} \times \cdots \times \frac{x-x_N}{x_k-x_N} \\
 &= \prod_{j=0, j \neq k}^N \frac{x-x_j}{x_k-x_j}
 \end{aligned} \tag{4}$$

となる.

2.2 問題点

補間の点数が増えてくると, ラグランジュの補間の近似の精度が悪くなることもある. その具体例を図 4 に示す. これから, 補間の関数が振動し, 端の方ではかなり精度が悪いことがわかる. ラグランジュの補間では, 補間の点数が増えてくると大きな振動が発生して, もはや補間とは言えなくなることがある. ラグランジュの補間には常にこの危険性が付きまとうので, データ点数が多い場合は良い方法ではない. ほかの補間を選択しなくてはならない.

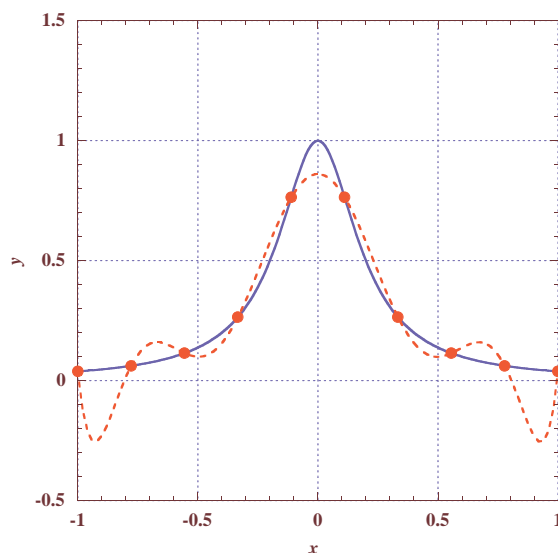


図 4: ラグランジュ補間の問題点. $y = \frac{1}{1+25x^2}$ を 10 点で補間 (点線) したが, 両端で振動する.

3 スプライン補間

3.1 区分多項式

ラグランジュの補間はデータ点数が増えてくると関数が振動し、補間の精度が悪くなるのは先に述べたとおりである。そこで、補間する領域をデータ間隔 $[x_i, x_{i+1}]$ に区切り、その近傍の値を使い低次の多項式で近似することを考える。区分的に近似関数を使うわけですが、上手に近似をしないと境界でその導関数が不連続になる。導関数が連続になるように、上手に近似する方法がスプライン補間 (spline interpolation) である。

ここでは、通常よくつかわれる 3 次スプライン補間について説明する。補間する関数が 3 次関数を使うため、そう呼ばれている。これ以降の説明は、文献 [1] を参考にした。

データは先と同じように $(x_0, y_0), (x_1, y_1), (x_2, y_2), \dots, (x_N, y_N)$ とする。そして、区間 $[x_j, x_{j+1}]$ で補間に使う関数を $S_j(x)$ とする。この様子を図 5 に示す。

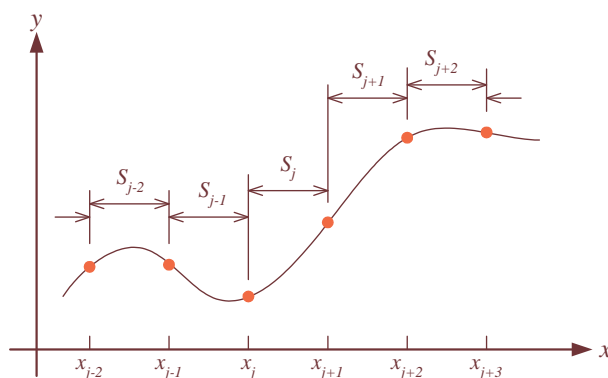


図 5: スプライン補間の区分

3.2 区分多項式の条件と計算方法

3 次スプライン補間を考えるので、区分多項式は

$$S_j(x) = a_j(x - x_j)^3 + b_j(x - x_j)^2 + c_j(x - x_j) + d_j \quad (j = 0, 1, 2, 3, \dots, N - 1) \quad (5)$$

となる。この a_j, b_j, c_j, d_j を求めることが、スプライン補間の関数をきめる問題となる。

$N + 1$ 個のデータ数があるため、区分多項式は N 個ある。したがって、区分多項式の係数をである未知数は $4N$ 個あることになる。これを求めるためには、 $4N$ 個の方程式が必要となる。3 次スプライン補間に以下の条件を課して、その係数を求めることにする。

[条件 1] 全てのデータ点を通る。各々の $S_j(x)$ に対して両端での値が決まるため、 $2N$ 個の方程式ができる。

[条件 2] 各々の区分補間式は、境界点の 1 次導関数は連続とする。これにより、 $N-1$ 個の方程式ができる

[条件 3] 各々の区分補間式は，境界点の 2 次導関数も連続とする．これにより， $N-1$ 個の方程式ができる．

以上の 3 つの条件を課すと $4N - 2$ 個の方程式で未知数である係数の関係を表現できる．実際，未知数は $4N$ 個なので，2 個方程式が不足している．この不足を補うために，いろいろな条件が考えられるが，通常は両端 x_0 と x_N での 2 次導関数の値を 0 とする．すなわち， $S''_0(x_0) = S''_{N-1}(x_N) = 0$ である．これを自然スプライン (natural spline) という．自然スプライン以外には，両端の 1 次導関数の値を指定するものもある．

これで全ての条件が決まった．あとは，この条件に満たす連立方程式を求めるだけである．このように，必要な条件が決まった場合， $4N$ 個の未知数 a_j, b_j, c_j, d_j を既知の x_j, y_j を使って連立方程式を作るのが普通である．これも可能であるが，少し手間を省くために，

1. これら $4N$ 個の未知数を x_j と y_j ，さらに $x = x_j$ における 2 次導関数の値を u_j で表現する．

$$u_j = S''_k(x_j) \quad (6)$$

ただし， $j = 0, 1, 2, \dots, N$
 $k = j - 1, j$

2. u_j が満たす連立方程式を作り， u_j を解く．
3. 既知の x_j と y_j と連立方程式により求められた u_j を用いて，区分多項式の係数 a_j, b_j, c_j, d_j を計算する．

というアプローチで問題を解く．ここで，本当に未知数 (a_j, b_j, c_j, d_j) を (x_j, y_j, u_j) で表現することができるのか—という疑問が湧く者もいるだろう．これは，先の連立方程式を作る条件を上手に使うことにより可能なのである．また，このような方法は，問題解決の遠回りをしているように思えるが，以降の説明を見ると実際にはかなり簡潔になることがわかるので我慢して読んで欲しい．

3.2.1 係数の表現

b_j の表現 これは， $u_j = S''_j(x_j)$ から求めることができる．式 (5) から，

$$S''_j(x) = 6a_j(x - x_j) + 2b_j \quad (7)$$

となる． $x = x_j$ の時，これは u_j となるので，

$$b_j = \frac{u_j}{2} \quad (8)$$

が直ちに導かれる．これで， b_j を u_j で表現できたことになる． b_j を表現するためには， x_j と y_j を使っても良かったが，ここではたまたま必要なかったのである．

a_j の表現 これは，2 次導関数が区分多項式の境界で等しいという条件から導くことができる．先ほどは区分多項式の左端 x_j を考えた．次に右端 $x = x_{j+1}$ を考えることにする．右端の導関数は，

$$u_{j+1} = S''_j(x_{j+1}) = 6a_j(x_{j+1} - x_j) + 2b_j \quad (j = 0, 1, 2, \dots, N - 1) \quad (9)$$

となる．これから， a_j は

$$\begin{aligned} a_j &= \frac{u_{j+1} - 2b_j}{6(x_{j+1} - x_j)} \\ &= \frac{u_{j+1} - u_j}{6(x_{j+1} - x_j)} \quad (j = 0, 1, 2, \dots, N-1) \end{aligned} \quad (10)$$

と導くことができる．これで， a_j を x_j と y_j と u_j で表現できたことになる．

d_j の表現 これは，区分多項式は全てのデータ点上を通過するという条件から導くことができる．まずは，多項式 $S_j(x)$ の左端 x_j を考える．ここでは， $S_j(x_j) = y_j$ なので，式 (5) に代入すると

$$d_j = y_j \quad (11)$$

が直ちに導ける．これで， d_j を y_j で表現できたことになる． d_j の表現には， x_j と u_j はたまたま不要であった．

c_j の表現 これもまた，区分多項式は全てのデータ点上を通過するという条件から導くことができる．今度は，多項式 $S_j(x)$ の右端 x_{j+1} である．ここでは， $S_j(x_{j+1}) = y_{j+1}$ なので，式 (5) に代入すると

$$a_j(x_{j+1} - x_j)^3 + b_j(x_{j+1} - x_j)^2 + c_j(x_{j+1} - x_j) + d_j = y_{j+1} \quad (12)$$

が導ける．式 (8),(10),(11) を用いると，

$$\begin{aligned} c_j &= \frac{1}{x_{j+1} - x_j} [y_{j+1} - a_j(x_{j+1} - x_j)^3 - b_j(x_{j+1} - x_j)^2 - d_j] \\ &= \frac{1}{x_{j+1} - x_j} \left[y_{j+1} - \frac{u_{j+1} - u_j}{6(x_{j+1} - x_j)} (x_{j+1} - x_j)^3 - \frac{u_j}{2} (x_{j+1} - x_j)^2 - y_j \right] \\ &= \frac{y_{j+1} - y_j}{x_{j+1} - x_j} - \frac{1}{6} (x_{j+1} - x_j) (2u_j + u_{j+1}) \end{aligned} \quad (13)$$

となる．これで， a_j を x_j と y_j と u_j で表現できたことになる．

以上で， a_j と b_j ， c_j ， d_j が x_j と y_j ， u_j で表せたことになる． x_j と y_j はデータ点なので，既知である．したがって， u_j が分かれば，補間に必要な係数が全て分かるのである．また，連立方程式の [条件 1] と [条件 3] も満たしている．従って，[条件 2] を満たすように u_j を決めれば良いことになる．すると全ての区分多項式の係数が分かるのである．

3.2.2 連立方程式

先に述べたように u_j は，1 次導関数が境界点で等しいという条件から決める．次の式を使うのである．

$$S'(x_{j+1}) = S'_j(x_{j+1}) = S'_{j+1}(x_{j+1}) \quad (j = 0, 1, 2, \dots, N-2) \quad (14)$$

これと式 (5) から，

$$3a_j(x_{j+1} - x_j)^2 + 2b_j(x_{j+1} - x_j) + c_j = c_{j+1} \quad (15)$$

4 練習問題

- 3点 $(1, 1), (3, 2), (4, 5)$ を通る曲線をラグランジュ補間して，区間 $[-1, 5]$ のグラフを書け．このプログラムは，レポートとして提出すること．
- ラグランジュ補間の問題点を示した関数 $y = \frac{1}{1+25x^2}$ のデータ点数と補間関数の関係を調べる．区間 $[-1, 1]$ で等間隔にデータ数を 5, 11, 21 と変化させて，ラグランジュ補間のグラフを書け．
- 先のラグランジュ補間の問題点を示した関数について，同様のことをスプライン補間せよ．このプログラムは，レポートとして提出すること．

5 レポート

5.1 内容

練習問題に示したとおり，1 番目と 3 番目のプログラムのソースを提出すること．

5.2 提出要領

期限	12月18日(月)24:00まで
用紙	A4
提出場所	山本研究室の入口のポスト
表紙	表紙を1枚つけて，以下の項目を分かりやすく記述すること． 授業科目名「計算機応用」 課題名「ラグランジュ補間とスプライン補間」 5E 学籍番号 氏名 提出日

参考文献

- [1] 高橋大輔. 数値計算. 岩波書店, 1996.